

第11回 ハクチョウ検定 (上級問題)

ふりがな		点数
おなまえ		

「こたえ」の に正しいと思う①～③の番号を書きましょう (1問5点)

【もんだい1】 てんねんきねんぶつ 天然記念物に指定されて今年で何年目でしょう。

- ①99年 ②100年 ③101年

こたえ
③

【もんだい2】 おな ハクチョウと同じくらいの じゅみょう 寿命の鳥はどれでしょう。

- ①フクロウ ②ハチドリ ③アヒル

こたえ
③

【もんだい3】 あさどころかいがん 浅所海岸に飛来したことがない ひらい ハクチョウは次のうちどれでしょう。



こたえ
①

【もんだい4】 つぎ 次の写真で しゃしん ハクチョウが ちやくすい 着水しようとしているのはどれでしょう。



こたえ
②


【もんだい5】 あさ 朝 ひらいすう ハクチョウの飛来数を はくちよう 白鳥を守る会の方が かた 記録しています。では、はくちよう 白鳥を守る会が きろく 記録している かんさつちてん 観察地点は何か所あるでしょう。

- ①9か所 ②5か所 ③1か所

こたえ
①

【もんだい6】 ^{まち}町のシンボルとして指定されている、^{ひらないまち}平内町の^き木・^{はな}花・^{とり}鳥の、^{ただ}正しい^く組み合わせは次のうちどれでしょう。

- ①ヒバ・リンゴ・ハクチョウ
- ②マツ・ツバキ・ハクチョウ
- ③イチヨウ・サクラ・ハクチョウ



こたえ
②

【もんだい7】 ^{おや}親ハクチョウが^{たまご}卵を抱えて^{かか}温める^{あたた}期間は^{きかん}どれくらいでしょう。

- ①約100日
- ②約45日～60日
- ③約35日～40日

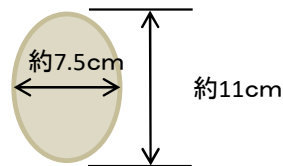
こたえ
③

【もんだい8】 オオハクチョウの^{くび}首の^{なが}長さはどれくらいでしょう。

- ①約25cm～約30cm
- ②約50cm～約60cm
- ③約75cm～約90cm

こたえ
②

【もんだい9】 オオハクチョウの^{たまご}卵の^{おお}大きさは^ず図のとおりですが、^{おも}重さは次のうちどれでしょう。



- ①約330g
- ②約520g
- ③約1kg

こたえ
①

【もんだい10】 オオハクチョウは^{たまご}シベリアで^う卵を^{そだ}産み、^{そだ}育てます。
オオハクチョウの^{つく}作る^す巣の^{おお}大きさはどのくらいでしょう。

- ①直径10m～20m
- ②直径2m～3m
- ③直径60cm～1m


こたえ
②

【もんだい11】 ハクチョウの^{しゆんまく}瞬膜はどのように^{うご}動くでしょう。

- ①人間と同じく上下に動く
- ②くちばしの方から後頭部の方向に横に動く
- ③全く動かない

こたえ
②

【もんだい12】 ハクチョウを含む^{ふく}鳥類は人間に^{ちようらい}比べ、^{にんげん}首を^{くら}いろいろな^{くび}方向に^ま曲げることができるのはなぜでしょう。



- ①骨がないから
- ②骨の数が多から
- ③骨の数が少から

こたえ
②

【もんだい13】^{あさどころかいがん}浅所海岸ではオオハクチョウ^{いがい}以外にもいろいろな野鳥^{やちょう み}を見ることができます。
^{あさどころかいがん み}浅所海岸で見ることができる野鳥^{やちょう つぎ}は次のうちどれでしょう。

- ①カモハクチョウ
- ②アジサシ
- ③キンクロハジロ

こたえ
③

【もんだい14】^{はたけやませいこう}畠山正光さん(白鳥^{はくちょう}おじさん)が^{あさどころかいがん}浅所海岸で^{であ}ハクチョウに出会う
^{しよくぎょう}きっかけとなった職業^{しよくぎょう}はなんでしょう。

- ①^{きゆうこくてつしよくいん}旧国鉄職員
- ②^{どうぶつえん}動物園の^{しよくいん}飼育員
- ③^{しょうがっこう}小学校の^{せんせい}先生

こたえ
①

【もんだい15】^{とらいち}ハクチョウの渡来地^{あさどころかいがん}である浅所海岸^{ひがた}の干潟^{やく}は約46haあり、^{きたとうほくさいだいきゆう}北東北最大級の
^{ひがた}干潟といわれています。
^{めんせき}その面積^{とうきょう}は東京ドーム^{やくなんこぶん}約何個分でしょう。

- ①^こ1個
- ②^こ5個
- ③^こ10個

こたえ
③

【もんだい16】^{にんげん}人間は^{ほにゅうるい}哺乳類で^かヒト科^いの生き物^{もの}です。
^{ちようるい}では、ハクチョウは鳥類^{なにか}で何科^いの生き物^{もの}でしょう。

- ①^かサギ科
- ②^かカモ科
- ③^かカモメ科

こたえ
②

【もんだい17】^{あか}ハクチョウの赤ちゃん(ひな)^{つぎ}は次のうちどれでしょう。



こたえ
①

【もんだい18】^{かわ うみ}川は海へとつながっています。では、^{ひらないまち}平内町にある川^{かわ}の中で^{なか}浅所海岸^{あさどころかいがん}へ
^{かわ}つながっている川^{つぎ}は次のうちどれでしょう。

- ①^{しおたてがわ}汐立川
- ②^{しみずがわ}清水川
- ③^{ほりさしがわ}堀差川

こたえ
①

【もんだい19】^{まいとし} ^{がつ} 毎年10月になると^{ひらないまち} ^{ひらい} ハクチョウが平内町に飛来します。
^{ひらないまち} ^{おお} ^{ひらい} ^{ちく} 平内町で多く飛来するのはどこの地区でしょう。

- ① ^{しみずかわ} ^{ちく} 清水川地区
- ② ^{あさどころ} ^{ちく} 浅所地区
- ③ ^{ひがしたざわ} ^{ちく} 東田沢地区

こたえ
②

【もんだい20】^{ひらないまち} ^{がいとう} 平内町の街灯には^{ぜんこくてき} ^{ゆうめい} ^{ひらない} 全国的にも有名な平内のモノが^{つか} モチーフとして使われています。
^{つぎ} ^{せんたくし} ^{つか} 次の選択肢のうち、使われていないのはどれでしょう。

- ① ホタテ
- ② ^{はくちょう} 白鳥
- ③ ^{つばき} 椿

こたえ
③