

# 第11回 ハクチョウ検定 (初級問題)

ふりがな		点数
おなまえ		


「こたえ」の  に正しいと思う①～③の番号を書きましょう (1問5点)

【もんだい1】 「ハクチョウ」は漢字でどのように書きましょう。

- ①白鳥      ②白鳥      ③白鳥

こたえ
①

【もんだい2】 ハクチョウのシルエットはどれでしょう。



こたえ
①

【もんだい3】 ハクチョウは1日にどのくらいの距離を飛ぶでしょう。

- ①平均15km～20km  
②平均30km～40km  
③平均60km～80km

こたえ
②

【もんだい4】 夜空に光る「白鳥座」は、どの季節に見られる星座でしょう。



- ①春      ②夏      ③秋

こたえ
②

【もんだい5】 ハクチョウの鳴き声は次のうちどれでしょう。

- ①チュン チュン      ②コオー コオー      ③ワン ワン

こたえ
②


【もんだい6】 このハクチョウは何をしているところでしょう。



- ①おぼれている
- ②かくれんぼしている
- ③エサをさがしている

こたえ
③

【もんだい7】 ハクチョウの足はどれでしょう。



こたえ
②

【もんだい8】 次のうちハクチョウの子どもはどれでしょう。



こたえ
②

【もんだい9】 このハクチョウは何をしているところでしょう。



- ①ねむっている
- ②病気でぐったりしている
- ③かくれんぼしている

こたえ
①

【もんだい10】 ダチョウの卵とハクチョウの卵、どちらの卵の方が大きいでしょう。

- ①ダチョウ
- ②ハクチョウ
- ③どちらも同じ大きさ

こたえ
①

【もんだい11】鳥類は季節により古い羽が抜けて新しい羽根が生えてくる換羽という時期があります。  
白鳥の羽が生え変わるのはいつの時期でしょう。

- ① 生え変わらない
- ② 冬
- ③ 夏

こたえ
③

【もんだい12】ハクチョウが飛ぶときの助走の速さはどのくらいでしょう。

- ① 時速30km
- ② 時速60km
- ③ 時速100kmをこえる



こたえ
①

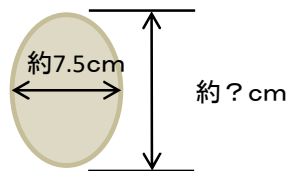
【もんだい13】ハクチョウが棲みつくためには、いくつかの条件が必要です。  
次のうち、正しいのはどれでしょう。

- ① 寒い冬でも水が凍りにくい川や湖
- ② 砂漠
- ③ 買い物しやすい、駅の近く

こたえ
①

【もんだい14】ハクチョウの卵の大きさ(直径)はどれくらいか。

- ① 約11cm
- ② 約13cm
- ③ 約15cm



こたえ
①

【もんだい15】その昔、平内町では死んだハクチョウを見つけたときは神職立ち合いのもとある神社の境内に埋葬していました。その神社の名前はなんでしょう。

- ① 明治神宮
- ② 日光東照宮
- ③ 雷電宮

こたえ
③

【もんだい16】ハクチョウは目を閉じることができるでしょうか。

- ① オスだけできる
- ② オスもメスもできる
- ③ メスだけできる

こたえ
②

【もんだい17】<sup>せいちょう おとな</sup>成鳥(大人)の<sup>たいじゅう</sup>オオハクチョウの体重はどれくらいでしょう。

- ①2～5kg
- ②8～12kg
- ③15～20kg



何kg?

こたえ
②

【もんだい18】<sup>おや</sup>親の<sup>たまご あたた</sup>オオハクチョウが卵を温めて、<sup>う</sup>ヒナが産まれてくるまでどのくらいでしょう。

- ①<sup>やく にち にち</sup>約35日～40日
- ②<sup>やく にち</sup>約100日
- ③<sup>やく にち にち</sup>約1日～7日

こたえ
①

【もんだい19】<sup>たまご う そだ</sup>オオハクチョウはシベリアで卵を産み、育てます。  
<sup>つく す おお</sup>オオハクチョウが作る巣の大きさはどのくらいでしょう。

- ①<sup>ちよっけい</sup>直径2m～3m
- ②<sup>ちよっけい</sup>直径10m～11m
- ③<sup>ちよっけい</sup>直径25m～26m

こたえ
①

【もんだい20】<sup>みわ</sup>オオハクチョウを見分けるポイントである<sup>せつめい</sup>くちばしの説明として  
<sup>まちが つぎ</sup>間違っているのは次のうちどれでしょう。

- ①<sup>きいろ ぶぶん くる ぶぶん おお</sup>黄色の部分が黒の部分より多い
- ②<sup>きいろ くる さかいめ はな あな とお</sup>黄色と黒の境目が鼻の穴を通してななめになっている
- ③<sup>きいろ ぶぶん くる ぶぶん すく</sup>黄色の部分が黒の部分より少ない

こたえ
③