

けんてい じょうきゅう もんだい

ハクチョウ 検定 (上級問題)

ふりがな	
おなまえ	

「こたえ」の に正しいと思う①～③の番号を書きましょう

【もんだい1】 これまでにあさどころかいがん はくちょう ど こうぞく こたいらん えい ぞく浅所海岸の白鳥は2度、皇族の御台覧の栄に俗しています。
ひたちのみやうでんか つぎ常陸宮兩殿下と次のどなたでしょう。

- ①ちちぶのみやう ひでんか秩父宮兩妃殿下 ②あきしのみやう ひでんか秋篠宮兩妃殿下 ③たかまどのみやうひでんか高円宮兩妃殿下

こたえ
①

【もんだい2】 ねんだい あさどころかいがんしゅうへん かいさんぶつ ようしょく さか つぎ30年代に浅所海岸周辺では海産物の養殖が盛んでしたが、次のうちどれでしょう。

- ①ホタテ ②ノリ ③アサリ

こたえ
②

【もんだい3】 どうわ こ む こ童話「みにくいアヒルの子」はアヒルの群れでいじめられていた子が、
じつ うつく はなし さくしゃ だれ実は、美しいハクチョウだったというお話ですが、この作者は誰でしょう

- ①アンデルセン ②グリム ③イソップ

こたえ
①

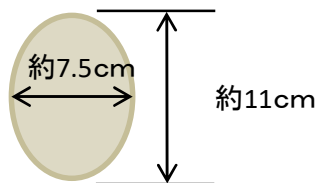
【もんだい4】 しょうわ ねん ぶそく し かた だい とくめい きふ昭和46年、ハクチョウのエサ不足を知った方がエサ代を匿名で寄付してくれました。
かた よこの方をのちに「ハクチョウおばさん」と呼ぶようになりましたが、次のうち誰でしょう。

- ①まつなみ なつこ松浪 奈津子 ②まつなみ なつこ松並 菜摘子 ③まつなみ なつこ松波 夏子

こたえ
③

【もんだい5】 たまご おお ず おも つぎハクチョウの卵の大きさは図のとおりですが、重さは次のうちどれぐらいでしょう。

- ①やく約1kg ②やく約520g ③やく約330g



こたえ
③

【もんだい6】 ^{ひらないまち} ^{とり} 平内町の鳥は「ハクチョウ」ですが、^{けんない} ^{ほか} ^{じちたい} ^{してい} 県内の他の自治体でも指定しているところがあります。さて、^{なんしちょうそん} 何市町村でしょう。

- ① ^{しちょうそん} 3市町村 ② ^{しちょうそん} 5市町村 ③ ^{しちょうそん} 10市町村

こたえ
②

【もんだい7】 オオハクチョウはシベリアから約3,000kmの距離を飛んできますが、^{にほん} ^つ ^{なんにち} 日本に着くまでに何日かかるでしょう

- ① ^{やく} ^{しゅうかん} 約2週間 ② ^{やく} ^{げつ} 約1か月 ③ ^{やく} ^{げつ} 約2か月

こたえ
①

【もんだい8】 ^{せいちょう} ^{おとな} ハクチョウの成鳥(大人)の「くちばし」は黒と黄色の2色ですが、^{ようちよう} ^こ 幼鳥(子ども)の「くちばし」は何色でしょう

- ① ^{しろ} 白 ② ^{しろ} ^{くろ} 白と黒 ③ ^{くろ} ^{きいろ} 黒と黄色

こたえ
②

【もんだい9】 ^{よる} ^{しりよく} ^{いちじる} ^{おとろ} ^め ^み 夜になると視力が著しく衰え、目が見えなくなることを鳥の体の一部に例えて何というでしょう。

- ① ^う ^{めたか} ^め 鵜の目鷹の目 ② ^{とりめ} 鳥目 ③ ^{いっせきにちよう} 一石二鳥

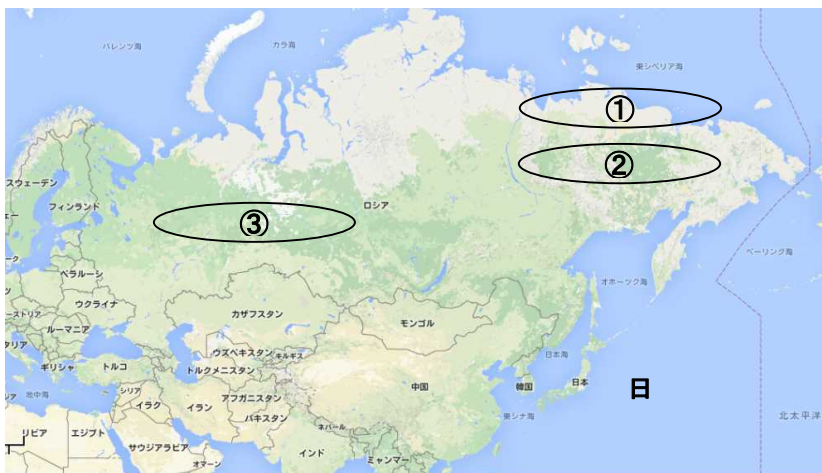
こたえ
②

【もんだい10】 ^{なに} ^{めじるし} ^{にほん} ハクチョウは何を目印にして日本にくるのでしょうか

- ① ^{たいよう} ^{ほし} 太陽と星 ② ^{へんせいふう} ^{かざむ} 偏西風(風向き) ③ 「オホーツク海」の海流

こたえ
①

【もんだい11】 オオハクチョウは5月頃から9月頃までシベリアで産卵し子育てをします。そのシベリアとは地図で示す①～③のうちどこでしょう。



こたえ
②

【もんだい12】ハクチョウは海や山を超えて飛んできますが、最高でどれくらいの高さの山を
超えることができるでしょう

- ①約1,000m ②約2,000m ③約3,000m



こたえ
③

【もんだい13】ハクチョウが好んで食べないものはどれでしょう。

- ①アオノリ ②ルッコラ ③セキショウモ

こたえ
②

【もんだい14】町ではハクチョウの渡来する環境を保存管理するため、工作物を新・増設する
ときに高さを制限する基準を作っています。さて、野辺地町に近い狩場沢地区で
許可が必要とする高さ制限は何mでしょう。

- ①10m以上 ②20m以上 ③30m以上



こたえ
②

【もんだい15】火曜サスペンス劇場でもおなじみの「浅見光彦シリーズ」でも知られる
「白鳥殺人事件」の著者はだれか。

- ①内田 康夫 ②赤川 次郎 ③村上 春樹



こたえ
①

【もんだい16】「小湊のハクチョウおよびその渡来地」の近くにあった浅所小学校が
ハクチョウの観察班を結成して本格的に観察を始めたのは昭和何年ごろでしょう

- ①昭和31年ごろ ②昭和41年ごろ ③昭和51年ごろ

こたえ
①

【もんだい17】 次の写真でハクチョウが着水しようとしているのはどれか

①



②



③ どちらでもない

こたえ
①

【もんだい18】 親ハクチョウが卵を抱えて温める期間はどれくらいでしょう

① 約100日

② 約45日～60日

③ 約35日～40日



こたえ
③

【もんだい19】 浅所海岸にあるこの胸像はだれでしょう



① 島山 正光

① 島山 正孔

① 畑山 成功

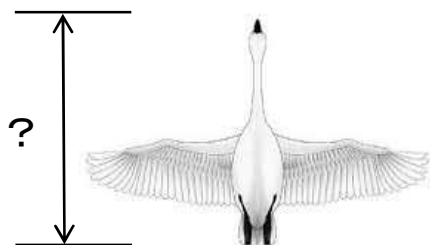
こたえ
①

【もんだい20】 ハクチョウのくちばしから尾翼の末端まではどれくらいでしょう

① 約1m40cm

② 約2m40cm

③ 約3m40cm



こたえ
①

点 数