

けんてい しよきゆう もんだい

ハクチョウ 検定 (初級問題)

ふりがな	
おなまえ	

「こたえ」の に正しいと思う①～③の番号を書きましょう

【もんだい1】 どうわ 童話「みにくいアヒルの子」は、こ 群れで む すがた ちが ちが 姿が違ふことからいじめられていた子が、
じつ 実は べつ アヒルではなく別の とり 鳥 ものがたり だったという物語ですが、その鳥は次のうちどれでしょう。

- ①カモ
- ②ハクチョウ
- ③アヒル



こたえ
②

【もんだい2】 す ハクチョウの好きな た 食べ物 もの は何 なん でしょう

① みずくさ 水草



②キノコ



③ にく 肉



こたえ
①

【もんだい3】 つぎ 次のうち こ ハクチョウの子 ども もはどれでしょう

①



②



③



こたえ
②

【もんだい4】 この なに ハクチョウは何 なに をしているところでしょう



① ね 寝ている

② かくれんぼ かくれんぼしている

③ びょうき 病気でぐったりしている

こたえ
①

【もんだい5】 この なに ハクチョウは何 なに をしているところでしょう



① おぼ ぼれている

② かくれんぼ かくれんぼしている


③ さが エサを探している

こたえ
③

【もんだい6】 ひらないまち き はな はな とり なん
 平内町の木は「マツ」、花は「ツバキの花」ですが、鳥は何でしょう



「マツ」



「ツバキ」



「 ? 」

- ①カモメ
- ②ハクチョウ
- ③うぐいす

こたえ
②

【もんだい7】 あさどころかいがんとらい
 浅所海岸には「オオハクチョウ」が渡来しますが、その「オオハクチョウ」は
 つぎ
 次うちどれでしょう

①



②



③



こたえ
①

【もんだい8】 は
 ハクチョウに歯はありますか？

- ①おとな せいちょう 歯 大人(成鳥)になると生えてくる
- ②歯はない
- ③おくば 奥歯だけある


こたえ
②

【もんだい9】 やま うみ こ さいこう たか
 ハクチョウは山や海を超えてやってきますが、最高でどれくらいの高さを
 と
 飛ぶことができるでしょうか

①こうそう 高層ビルくらい

②よこしやま 夜越山くらい

③ふじさん 富士山くらい



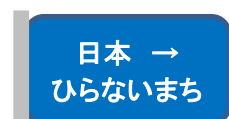
こたえ
③

【もんだい10】 とお と
 ハクチョウはとても遠くから飛んできますが、道に迷うことはありません。
 さて、何を目印に飛んでくるのでしょうか

①どうろ かんばん 道路の看板

②たいよう ほし 太陽と星

③ひこうき 飛行機についてくる



こたえ
②

【もんだい11】ハクチョウは春になるとシベリアに帰って卵を産み、子育てをします。
ところが、9月を過ぎると日本などに渡る準備をします。それはどうしてでしょう。

- ①暑すぎて耐えられないから
- ②鉄砲を持ったハンターから来るから
- ③寒くなってエサ場が凍ってしまうから

こたえ
③

【もんだい12】ハクチョウの鳴き声は次のうちどれでしょう

- ①グア グア
- ②コオー コオー
- ③ホー ホケキョ



こたえ
②

【もんだい13】ハクチョウは目を閉じることができるでしょうか

- ①オスだけできる
- ②メスだけできる
- ③オスもメスもできる

こたえ
③

【もんだい14】オオハクチョウは巣の大きさは直径約2～3メートルですが、
巣は何でできているでしょう

- ①スポンジ
- ②砂や土
- ③木の枝や草の葉



こたえ
③

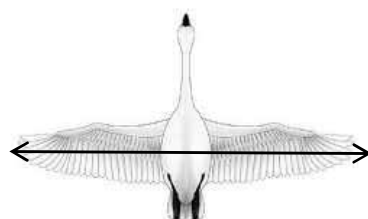
【もんだい15】ハクチョウはどこで寝るでしょう

- ①木の上
- ②建物の中
- ③水上や草の影

こたえ
③

【もんだい16】ハクチョウが羽を広げたときの大きさはどれくらいでしょう

- ①約50センチ
- ②約1メートル
- ③約2メートル40センチ



こたえ
③

【もんだい17】^{と はや} ^と ^{はや} ^{じそく} ^{くるま おな}
 ハクチョウの飛ぶ速さは、時速50キロぐらいで、車と同じぐらいです。
^{お かぜ} ^{じそく} ^{さいこう} ^{じそく}
 追い風では時速70キロぐらいになりますが、最高時速はどれぐらいでしょう

- ② ^{じそく} 時速100キロぐらい
- ② ^{じそく} 時速250キロぐらい
- ③ ^{じそく} 時速500キロぐらい




こたえ
①

【もんだい18】^{ふゆ} ^{ちか} ^{ひらないまち}
 冬が近づくと平内町にはハクチョウがやってきます。このハクチョウと渡来地は
^{しょうわ} ^{ねん} ^{くに} ^{とくべつ} ^{てんねん} ^{きねん} ^{ぶつ} ^{してい} ^{してい} ^{めいしょう} ^{なまえ}
 昭和27年に国の特別天然記念物に指定されました。指定された名称(名前)は
^{つぎ}
 次のうちどれでしょう

- ① ^{こみなと} 小湊のハクチョウおよびその渡来地
- ② ^{あさどころ} 浅所のハクチョウおよびその渡来地
- ③ ^{ひらない} 平内のハクチョウおよびその渡来地

こたえ
①



【もんだい19】^{あさどころ} ^{かいがん} ^{しま} ^{ひと} ^{まつしま} ^{ひと} ^{なん} ^い
 浅所海岸には2つの島があります。一つは「松島」ですがもう一つは何と言うでしょう



- ① ^{しょうどしま} 小豆島
- ② ^{ふたごしま} 双子島
- ③ ^{こまつしま} 小松島

こたえ
③

【もんだい20】^{あし}
 ハクチョウの足はどれでしょう



こたえ
①

点 数